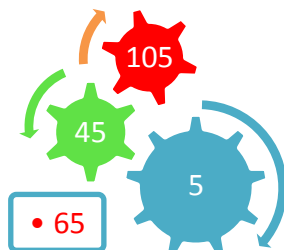

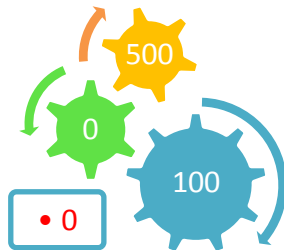
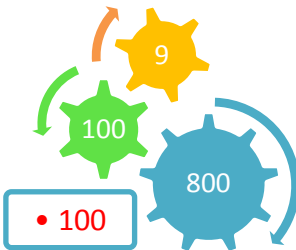
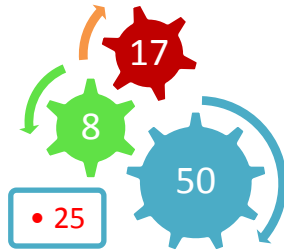
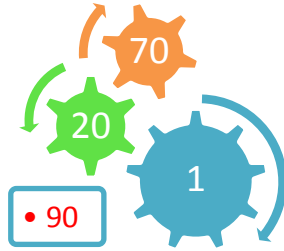
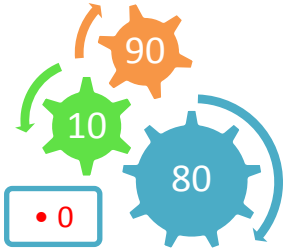


# IQ ZEKA ETKİNLİKLERİ

## SAYISAL ARİTMETİK -88

Sevgili Çocuklar; Aşağıda verilen rakam ve sayıları birer defa kullanmak şartıyla, dört işlemlerle kare içerisindeki sayıları bulunuz.

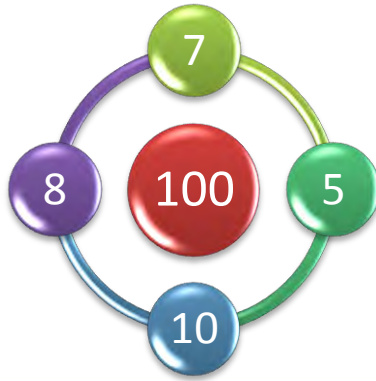
[www.mustafa-turan.com](http://www.mustafa-turan.com)



# IQ ZEKA ETKİNLİKLERİ

## SAYISAL ARİTMETİK -90

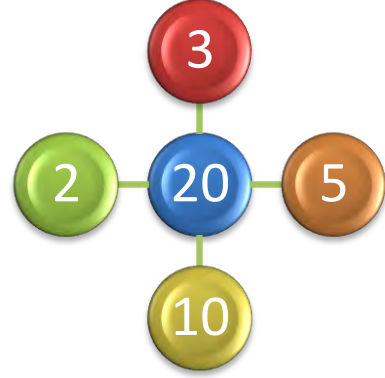
Sevgili Çocuklar; aşağıdaki şablonların ortasındaki sayılar belirli bir kurala göre konulmuştur. [www.mustafa-turan.com](http://www.mustafa-turan.com) Sizde aşağıdaki şablonların ortasındaki sayıları bulmaya çalışınız...



# IQ ZEKA ETKİNLİKLERİ

## SAYISAL ARİTMETİK -91

Sevgili Çocuklar; aşağıdaki şablonların ortasındaki sayılar belirli bir kurala göre konulmuştur. [www.mustafa-turan.com](http://www.mustafa-turan.com) Sizde aşağıdaki şablonların ortasındaki sayıları bulmaya çalışınız...



# IQ ZEKA ETKİNLİKLERİ

## SAYISAL ARİTMETİK -88

Sevgili Çocuklar; Tablodaki sayılar arasında bir ilişki ve belirli kurallar bulunmaktadır...[www.mustafa-turan.com](http://www.mustafa-turan.com) Bu ilişkiye göre soru işareti olan yerlere gelmesi gereken sayıları bulunuz...

A	B	C	D	E
3	4	5	20	9
5	5	4	6	?
4	8	3	2	12
3	8	7	9	?
8	1	3	10	24

A	B	C	D	E
3	4	15	3	5
2	3	14	7	?
3	4	21	7	7
1	3	12	6	2
2	5	20	6	?

# IQ ZEKA ETKİNLİKLERİ

## SAYISAL ARİTMETİK -105

Sevgili Çocuklar; şekillerdeki sayılar arasında bir ilişki ve belirli kurallar bulunmaktadır... [www.mustafa-turan.com](http://www.mustafa-turan.com) Bu ilişkiye göre soru işareti olan yerlere gelmesi gereken sayıları bulunuz...

7	3	6	2
2	8	5	4
1	1	2	4
4	2	1	?

7	3
5	

8	6
7	

2	10
6	

4	2
?	